

25



正方形、長方形の面積の公式が使えるように工夫して、面積を求めよう。

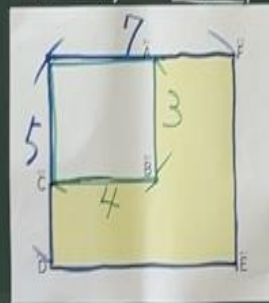
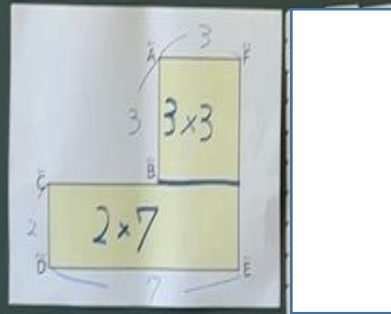
分ける → 足す

足す → 引く

$3 \times 3 = 9$

$2 \times 7 = 14$

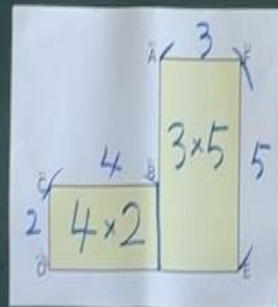
$9 + 14 = 23$



$3 \times 5 = 15$

$4 \times 2 = 8$

$15 + 8 = 23$



$5 \times 7 = 35$

$3 \times 4 = 12$

$35 - 12 = 23$

まとめ

□ のような形の面積は

① 形を分けて 分けたものを足す

② 足してから引く

長方形や正方形の面積の公式を使って

求めることができる。